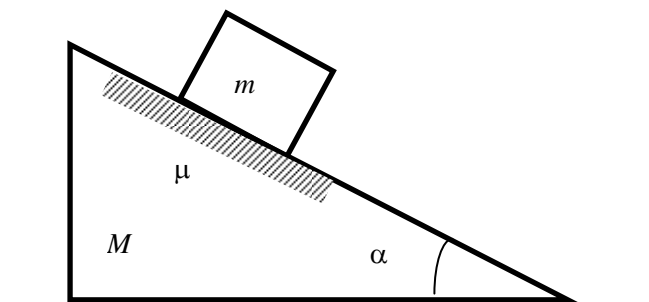


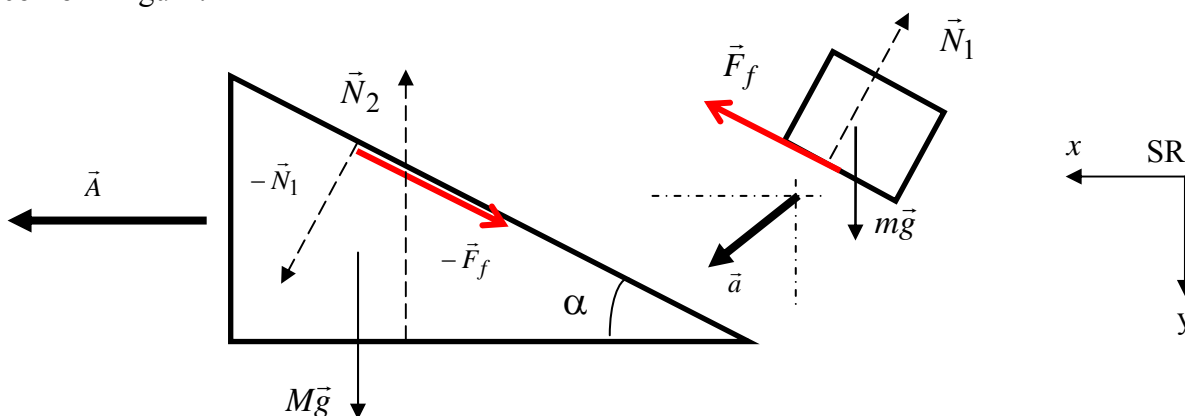
## Tipul F2

1. În sistemul din figură, corpul de masă  $m = 4 \text{ kg}$  coboară cu frecare ( $\mu = 0,5$ ) pe prisma de masă  $M = 9 \text{ kg}$  și unghi  $\alpha = 45^\circ$ . Dacă prisma se deplasează pe orizontală fără frecare și  $g = 10 \text{ m/s}^2$ , modulul accelerației prisme este:



### Soluție:

Corpurile se mișcă diferit, singura condiție fiind că ele se găsesc în permanență în contact. Așadar vom descompune sistemul în două părți componente, înlocuind prezența unei părți cu acțiunile ei asupra celeilalte părți. Alegem sistemul de referință inerțial (SRI) cu axele orientate conform figurii.



Ținând cont că forța de frecare dintre corpuri este  $F_f = \mu N_1$ , proiecțiile pe cele două axe ale ecuațiile de mișcare ale cele două corpuri sunt :

- pentru corpul de masă  $M$  :

$$\text{Pe axa } Ox : MA = N_1 \sin \alpha - \mu N_1 \cos \alpha \quad (1)$$

$$\text{Pe axa } Oy : 0 = Mg - N_2 + N_1 \cos \alpha + \mu N_1 \sin \alpha \quad (1a)$$

- pentru corpul de masă  $m$  :

$$\text{Pe axa } Ox : ma_x = -N_1 \sin \alpha + \mu N_1 \cos \alpha \quad (2)$$

$$\text{Pe axa } Oy : ma_y = mg - N_1 \cos \alpha - \mu N_1 \sin \alpha \quad (3)$$

Eliminând apăsarea normală  $N_1$  din relația (1)

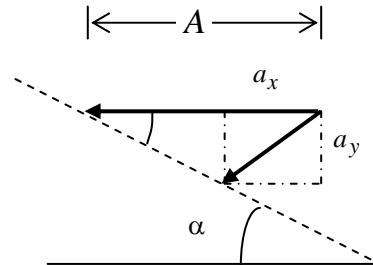
$$N_1 = \frac{MA}{\sin \alpha - \mu \cos \alpha}$$

și introducând-o în ec (2) și (3) se obține:

$$ma_x = MA \frac{\mu \cos \alpha - \sin \alpha}{\sin \alpha - \mu \cos \alpha} \Rightarrow a_x = -A \frac{M}{m} \quad (4)$$

$$ma_y = mg - MA \frac{\cos \alpha + \mu \sin \alpha}{\sin \alpha - \mu \cos \alpha} \Rightarrow a_y = g - A \frac{M}{m} \cdot \frac{\cos \alpha + \mu \sin \alpha}{\sin \alpha - \mu \cos \alpha} \quad (5)$$

Condiția ca un corp să alunece pe suprafața celuiilalt este (vezi figura):



$$\operatorname{tg} \alpha = \frac{a_y}{A - a_x}$$

de unde se obține succesiv:

$$A \operatorname{tg} \alpha + A \frac{M}{m} \operatorname{tg} \alpha = g - A \frac{M}{m} \cdot \frac{\cos \alpha + \mu \sin \alpha}{\sin \alpha - \mu \cos \alpha}$$

$$A = \frac{g}{\frac{M}{m} \left[ \frac{\cos \alpha + \mu \sin \alpha}{\sin \alpha - \mu \cos \alpha} + \operatorname{tg} \alpha \right] + \operatorname{tg} \alpha} = \frac{g}{\frac{M}{m} \cdot \frac{\operatorname{tg}^2 \alpha + 1}{\operatorname{tg} \alpha - \mu} + \operatorname{tg} \alpha} \quad (6)$$

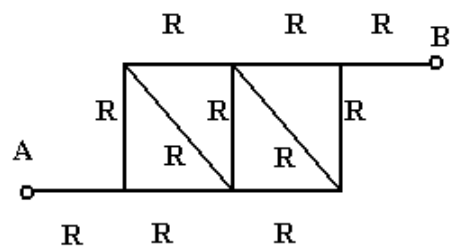
Numeric:

$$A = \frac{10}{\frac{9}{4} \cdot \frac{1+1}{1-0,5} + 1} \text{ m/s}^2 = 1 \text{ m/s}^2$$

**2. Cele 11 laturi din figură au fiecare rezistența  $R=22\Omega$ .**

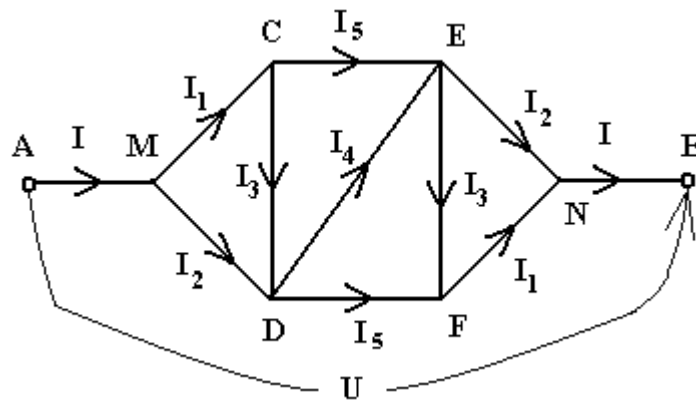
**Rezistența între punctele A și B este egală cu:**

- a).  $74 \Omega$ ;                      b).  $33 \Omega$ ;                      c).  $154/13 \Omega$ ;  
d).  $394/11 \Omega$ ;                      e).  $72 \Omega$ ;                      f).  $81 \Omega$ .



**Rezolvare**

$R_{AB} = 2R + R_{ech}$  unde  $R_{ech}$  este rezistența echivalentă a celor nouă rezistoare din mijloc.  
Rezolvarea este mai simplă dacă desenăm schema într-o formă simetrică:



Presupunem că la bornele A și B aplicăm o tensiune  $U$ . Nu toți curenții sunt diferiți, putem deduce din simetrie egalitatea unora dintre ei. Pe schemă am figurat toți curenții luând în considerație observația precedentă. Există numai 5 intensități diferite, deoarece, de exemplu,  $I_{CD}=I_{EF}$ ,  $I_{CE}=I_{DF}$ , etc. Legea I a lui Kirchhoff în nodurile C și D se scrie:

$$I_1 = I_3 + I_5 \quad (1) \quad I_2 + I_3 = I_4 + I_5 \quad (2)$$

Se scrie legea a II-a a lui Kirchhoff:

folosind porțiunea AMCENB  $U = 2RI + R(I_1 + I_5 + I_2)$  (3)

pe ochiul CDE:  $R(I_3 + I_4) = RI_5$ , (4)

pe ochiul MCD  $R(I_1 + I_3) = RI_2$  (5).

Din ecuațiile (1,2,4,5) găsim toți curenții în funcție de  $I_1$ :

$$I_2 = \frac{6I_1}{5}, \quad I_3 = \frac{I_1}{5}, \quad I_4 = \frac{3I_1}{5}, \quad I_5 = \frac{4I_1}{5}.$$

Introducând în (3) rezultă  $U = 2RI + R\left(I_1 + \frac{4I_1}{5} + \frac{6I_1}{5}\right) = 2RI + 3RI_1$ , sau, deoarece

$$I = I_1 + I_2 = \frac{11I_1}{5}, \text{ sau } I_1 = \frac{5I}{11}, U = \left(2 + \frac{15}{11}\right)RI = \frac{37}{11}RI. R_{AB} = \frac{U}{I} = \frac{37}{11} \times 22 = 74 \Omega$$

**3. La bornele unui generator se leagă succesiv două rezistoare, randamentele circuitelor electrice corespunzătoare fiind de 40% și respectiv 70%. Randamentul circuitului, când la bornele generatorului se conectează ambele rezistoare legate în serie, este:**

**Rezolvare**

Circuitele obținute prin conectarea succesivă a rezistoarelor cu rezistențele  $R_1$  respectiv  $R_2$  la bornele generatorului având rezistența internă  $r$  au randamentele:  $\eta_1 = \frac{R_1}{R_1 + r}$  și respectiv

$\eta_2 = \frac{R_2}{R_2 + r}$ . Când la bornele generatorului se conectează gruparea serie a rezistoarelor, având

rezistența echivalentă  $R_1+R_2$ , randamentul circuitului este:  $\eta = \frac{R_1 + R_2}{R_1 + R_2 + r}$ . Înlocuind în această

relație expresiile rezistențelor  $R_1 = \frac{\eta_1}{1-\eta_1}$  și respectiv  $R_2 = \frac{\eta_2}{1-\eta_2}$ , obținute din primele două ecuații,

rezultă:  $\eta = \frac{\eta_1 + \eta_2 - 2\eta_1 \cdot \eta_2}{1 - \eta_1 \cdot \eta_2}$  și mai departe  $\eta = 75\%$ .

**4. La legarea în serie sau în paralel a patru generatoare electrice identice, puterea disipată pe un rezistor este  $P = 160 \text{ W}$ . Puterea disipată de un singur generator pe același rezistor este:**

**Rezolvare**

La legarea în serie a celor patru generatoare identice, intensitatea curentului prin rezistorul de rezistență  $R$ , conectat la bornele acestei baterii de generatoare, este:

$$I_s = \frac{4E}{R + 4r}, \text{ iar puterea disipată pe rezistor este } P = RI_s^2.$$

La legarea generatoarelor în paralel, intensitatea curentului prin același rezistor de rezistență  $R$ , conectat la noua baterie de generatoare, este:

$$I_p = \frac{E}{R + \frac{r}{4}}, \text{ iar puterea disipată pe rezistor este } P = RI_p^2.$$

Egalând puterile și înlocuind expresiile  $I_s$  și  $I_p$ , rezultă  $R = r$ .

La conectarea rezistorului la un singur generator, intensitatea curentului prin circuit este  $I = \frac{E}{R + r}$ .

Ținând cont că  $R = r$ ,  $I = \frac{E}{2R}$ , iar puterea disipată pe rezistor este  $P' = RI^2$ , adică  $P' = \frac{E^2}{4R}$ .

Din  $P = RI_p^2$  și  $R = r$  rezultă:

$$P = RI_p^2 = R \left( \frac{E}{R + \frac{r}{4}} \right)^2 = R \left( \frac{E}{R + \frac{R}{4}} \right)^2 = \frac{16 E^2}{25 R},$$

$$\text{adică } \frac{E^2}{R} = \frac{25}{16} P.$$

$$\text{Ca urmare, } P' = \frac{E^2}{4R} = \frac{1}{4} \cdot \frac{25}{16} P = 62,5 \text{ W}.$$

**5. O masă de 150 g de gaz ideal ( $\mu = 18 \text{ g/mol}$ ) suferă o transformare în care presiunea variază linear cu volumul. Gazul trece din starea  $p_1 = 7 \cdot 10^5 \text{ Pa}$ ,  $V_1 = 32 \text{ litri}$  în starea  $p_2 = 10^6 \text{ Pa}$ ,  $V_2 = 22 \text{ litri}$ . Temperatura maximă atinsă de gaz în această transformare este ( $R = 8,3 \text{ J/mol}\cdot\text{K}$ ):**

**Rezolvare**

Gazul suferă o transformare generală descrisă în coordonate  $(p, V)$  prin legea  $p(V) = a \cdot V + b$ , în

care  $a = \frac{p_2 - p_1}{V_2 - V_1}$  și  $b = p_1 - a \cdot V_1$ , adică  $a = -3 \cdot 10^7 \text{ Pa/m}^3$  respectiv  $b = 16,6 \cdot 10^5 \text{ Pa}$ . Înlocuind în

această relație expresia presiunii  $p = \frac{\nu RT}{V}$ , așa cum rezultă din ecuația termică de stare a gazului

ideal, se obține legea transformării generale a gazului în coordonate  $(V, T)$ :

$T(V) = \frac{1}{\nu R} (a \cdot V^2 + b \cdot V)$ . Din condiția de extremum a acestei funcții, când volumul gazului este

$$V_M = -\frac{b}{2a}, \text{ el atinge temperatura maximă } T_{\max} (V = V_M) = \frac{1}{\nu R} \left( \frac{-b^2}{4a} \right) \text{ adică } T_{\max} = 332 \text{ K}.$$

**6. Un mobil se deplasează jumătate din durata mișcării cu viteza de 65 km/h și cealaltă jumătate cu viteza de 95 km/h. Viteza medie a mobilului este:**

**Rezolvare**

Viteza medie a mobilului este  $v_m = \frac{\Delta x}{\Delta t}$  unde  $\Delta x$  reprezintă deplasarea totală a mobilului efectuată pe toată durata  $\Delta t$  a mișcării sale. Într-o jumătate din durată mișcării sale corpul se deplasează cu  $\Delta x_1 = v_1 \frac{\Delta t}{2}$  iar în cealaltă jumătate cu  $\Delta x_2 = v_2 \frac{\Delta t}{2}$ . Ținând cont de faptul că  $\Delta x = \Delta x_1 + \Delta x_2$  rezultă că viteza medie a mobilului are expresia  $v_m = \frac{v_1 + v_2}{2}$ , respectiv valoarea  $v_m = 80$  km/h.

**7. La capetele unui conductor de rezistență  $2\Omega$  se aplică o tensiune electrică de 4V. Intensitatea curentului electric prin conductor este:**

**Rezolvare**

Aplicând legea lui Ohm pentru o porțiune de circuit,  $I = \frac{U}{R}$ , rezultă:

$$I = \frac{4}{2} = 2 \text{ A.}$$

**8. Căldura disipată de un consumator cu rezistența de  $20\Omega$  străbătut de un curent de intensitate 2A timp de 5 minute este:**

**Rezolvare**

Conform definiției  $Q = W = UIt = RI^2t$ , adică  $Q = 20 \cdot 4 \cdot (5 \cdot 60) = 24000$  J, sau  $Q = 24$  kJ.

**9. Volumul unui mol de gaz ideal la temperatura de 300K și presiunea de  $10^5$  Pa ( $R = 8,3\text{J/mol}\cdot\text{K}$ ) este egal cu:**

**Rezolvare**

Din ecuația termică de stare a gazului ideal,  $pV = \nu RT$ , se obține  $V = \frac{\nu RT}{p}$ , adică

$$V = \frac{1 \cdot 8,3 \cdot 300}{10^5} = 0,0249 \text{ m}^3.$$

**10. O cantitate de gaz ideal cu volumul de 60 litri este încălzită la presiunea constantă de  $3 \cdot 10^5$  Pa. Dacă volumul crește de 5 ori, lucrul mecanic efectuat de gaz este:**

**Rezolvare**

Lucrul mecanic efectuat de gazul ideal în transformarea izobară dată este:

$$L = p \cdot \Delta V = p \cdot (5V_1 - V_1) = 4pV_1, \text{ adică } L = 72 \text{ kJ.}$$

**11. Randamentul unui ciclu Carnot este de 50%. Dacă temperatura sursei calde crește de 2 ori, iar cea a sursei reci rămâne neschimbată, randamentul devine egal cu:**

**Rezolvare**

Randamentul ciclului Carnot, exprimat în funcție de temperaturile surselor caldă ( $T_1$ ) și rece ( $T_2$ ), este  $\eta = 1 - \frac{T_2}{T_1}$ , de unde rezultă că  $\frac{T_2}{T_1} = 1 - \eta$ . Când temperatura sursei calde crește de 2 ori, randamentul devine  $\eta^* = 1 - \frac{T_2}{2T_1} = 1 - \frac{1}{2}(1 - \eta) = \frac{1}{2}(1 + \eta)$ , adică  $\eta^* = 0,75$ .

**12. Un gaz ideal aflat la presiunea de  $10^5$  Pa suferă o transformare izocoră în urma căreia temperatura gazului se dublează. Presiunea gazului crește cu:**

**Rezolvare**

Aplicând legea transformării izocore,  $\frac{p}{T} = \text{const.}$ , se obține  $\frac{p_1}{T_1} = \frac{p_2}{2T_1}$  și  $p_2 = 2p_1$ . Presiunea gazului crește cu  $\Delta p = p_2 - p_1 = p_1$ , adică  $\Delta p = 10^5$  Pa.

**13. Temperatura unui kilogram de apă (cu căldura specifică  $c = 4185$  J/kgK), care primește o cantitate de căldură de 83700 J, variază cu:**

**Rezolvare**

Din definiția căldurii specifice a unei substanțe,  $c = \frac{Q}{m\Delta T}$ , rezultă  $\Delta T = \frac{Q}{mc}$ , adică  $\Delta T = \frac{83700}{1 \cdot 4185} = 20$  K sau  $\Delta t = 20$  °C.

**14. Utilizând notațiile din manualele de fizică, legea lui Ohm pentru circuitul simplu este:**

**Rezolvare**

$$I = \frac{E}{R + r}$$

**15. Unitatea de măsură în SI pentru impuls este:**

**Rezolvare**

$$[p]_{\text{SI}} = \text{kg} \cdot \text{m/s}$$

**16. Dacă  $\sigma$ ,  $\varepsilon$  și  $E$  sunt efortul unitar, alungirea relativă și respectiv modulul lui Young, legea lui Hooke are expresia :**

**Rezolvare**

$$\sigma = E \cdot \varepsilon$$

**17. Legea de mișcare a unui mobil este  $x(t) = 2t^2 - 8t + 21$  (m). Viteza mobilului când acesta se află în punctul de coordonată  $x = 13$  m este:**

**Rezolvare**

Momentul de timp la care mobilul se află în punctul de coordonată  $x = 13$  m este dat de soluția unică,  $t = 2$  s, a ecuației  $13 = 2t^2 - 8t + 21$ . Din expresia legii de mișcare, rezultă că mobilul se mișcă rectiliniu uniform variat cu accelerația  $a = 4 \text{ m/s}^2$  și are o viteză inițială  $v_0 = -8 \text{ m/s}$ . Legea vitezei mobilului în mișcarea dată are forma generală  $v(t) = a \cdot t + v_0$ , respectiv forma particulară  $v(t) = 4 \cdot t - 8$  (m/s). Prin urmare, când  $t = 2$  s,  $v(2) = 0 \text{ m/s}$ .

**18. Două rezistoare cu rezistențele de  $2\Omega$  și respectiv  $8\Omega$  sunt legate în paralel. Rezistența echivalentă a grupării este:**

**Rezolvare**

Din  $\frac{1}{R_p} = \frac{1}{R_1} + \frac{1}{R_2}$  rezultă  $R_p = \frac{R_1 R_2}{R_1 + R_2}$ , adică  $R_p = 1,6 \Omega$ .